



**Prefeitura de
Rolândia**



**SECRETARIA MUNICIPAL DE EDUCAÇÃO
ATIVIDADES COMPLEMENTARES DE ESTUDO – COVID 19**

25º ROTEIRO DE ATIVIDADES COMPLEMENTARES DE ESTUDO – COVID 19

ESCOLA MUNICIPAL MONTEIRO LOBATO

PROFESSOR: _____ TURMA: SALA DE RECURSO

ALUNO(A): _____

COMPONENTE CURRICULARES: LÍNGUA PORTUGUESA E MATEMÁTICA.

PERÍODO DE REALIZAÇÃO: 26/10/2020 A 29/10/2020 TURMA: C12

VÍDEO OU ÁUDIO DO PROFESSOR	<ul style="list-style-type: none">- Áudio do professor com as orientações sobre as atividades.- Vídeo sobre as formas geométricas
O QUE VAMOS ESTUDAR?	<ul style="list-style-type: none">- Leitura e interpretação textual de imagens- Habilidades de atenção e percepção visual- Escrita de palavras- Identificação e correspondência entre imagens e formas geométricas (cores)
PARA QUE VAMOS ESTUDAR ESSES CONTEÚDOS?	<ul style="list-style-type: none">- Assistir ao vídeo informativo: Sobre as formas geométricas- Explorar as habilidades de coordenação motora fina, atenção e percepção visual- Retomar as figuras geométricas simples
COMO VAMOS ESTUDAR OS CONTEÚDOS	<ul style="list-style-type: none">- Leitura e interpretação das imagens descritas/comparações- Ampliar conhecimentos- Contagem simples e correspondência termo á termo
COMO VAMOS REGISTRAR O QUE APRENDEMOS?	<ul style="list-style-type: none">- As atividades devem ser realizadas na folha impressa que retirou na escola para ser entregue ao professor na próxima semana de entrega para a correção, será enviado o vídeo com explicações da professora, e também um link explicativo.



**SECRETARIA MUNICIPAL DE EDUCAÇÃO
ATIVIDADES COMPLEMENTARES DE ESTUDO – COVID 19**

**NESTA FLORESTA HÁ VÁRIOS ANIMAIS. VOCÊ É CAPAZ DE ENCONTRÁ-LOS?
PINTE OS ANIMAIS ENCONTRADOS E ESCREVA O NOME DE CADA UM**



_____	_____
_____	_____
_____	_____
_____	_____
_____	_____




DESCUBRA

DESCUBRA NA NAVE ESPACIAL AS FIGURAS GEOMÉTRICAS E PINTE-AS:

○ AMARELO + ○ VERMELHO = ○ LARANJA

□ AZUL + □ AMARELO = □ VERDE

△ AZUL + △ VERMELHO = △ ROXO



CONTE E RECONTE

QUANTAS VEZES CADA FIGURA APARECEU NA NAVE?



= _____



= _____

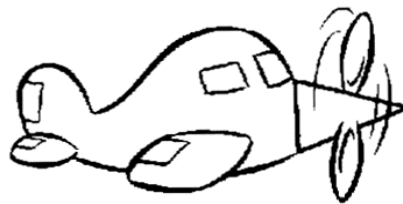



= _____


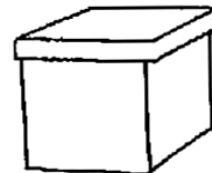


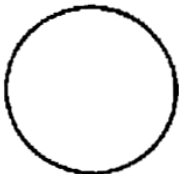


FIQUE DE OLHO

ENCONTRE O  E PINTE



LIGUE AS FORMAS GEOMÉTRICAS ÀS FIGURAS CORRESPONDENTES





**Prefeitura de
Rolândia**



**SECRETARIA MUNICIPAL DE EDUCAÇÃO
ATIVIDADES COMPLEMENTARES DE ESTUDO – COVID 19**